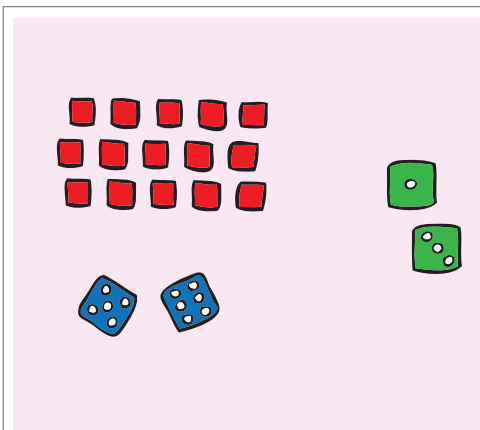


Wie het meeste gooit! [≤ 12]



Materiaal

- Vier dobbelstenen
- 15 blokjes (fiches)

Aantal spelers

2

Doel van het spel

Wie aan het eind van het spel de meeste blokjes heeft, is de winnaar!

Wat leer ik?

- Ik leer/oefen de telrij tot en met 12.
- Ik leer tellen van stippen en blokjes tot en met 12.
- Ik leer/oefen vergelijken van stippen op de dobbelstenen en groepjes met blokjes.
Ik weet dan waar de meeste stippen staan of blokjes liggen.
- Ik leer dat je niet altijd alle stippen hoeft te tellen om te weten hoeveel stippen er zijn.
- Ik leer (handig) bij elkaar (op)tellen van stippen.

Tip

- Ken je dit spel nog niet? Speel het dan eerst met iemand die het wel kent!

Start

Leg 15 blokjes bij elkaar op tafel. Neem allebei twee dobbelstenen.

Spel

Er zijn 15 blokjes. Die leg je bij elkaar op een hoopje. Dit is 'de pot'.

De twee spelers krijgen allebei twee dobbelstenen.

Je gooit tegelijk met de twee dobbelstenen.

Wie heeft de meeste stippen gegooid? Die speler mag een blokje uit de pot pakken.

Als je allebei evenveel gooit, pak je allebei een blokje uit de pot.

Speel zo door totdat de pot leeg is.

Wie heeft aan het eind van het spel de meeste blokjes? Dat is de winnaar!

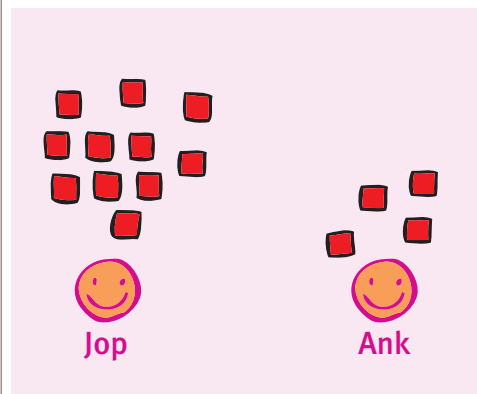
Tip

- Vind je het spel moeilijk? Gooi dan allebei met één dobbelsteen.
- Vind je het spel makkelijk? Speel dan eens ieder met drie dobbelstenen.

Wie het meeste gooit! [≤ 12]

Uitdaging

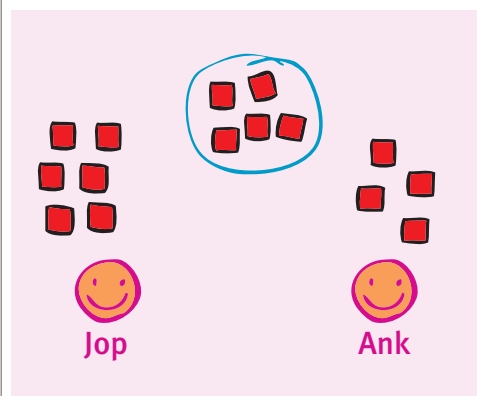
Kun je samen antwoorden vinden op de volgende vragen?
Let op, hoe meer sterretjes, hoe moeilijker de vragen!



Vraag 1

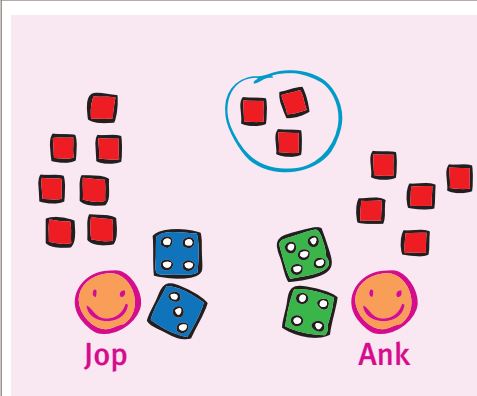
Jop en Ank spelen samen.
De pot is leeg.

- Het spelletje is afgelopen. Wie heeft gewonnen?
- Hoe weet je dat?



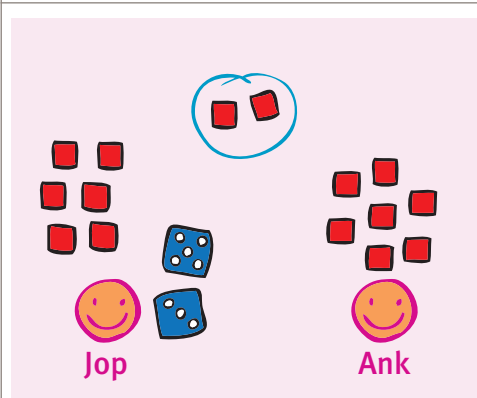
Vraag 2

- Wie staat voor, Jop of Ank? Hoe weet je dat?
- Wie gaat er winnen denk je? Waarom denk je dat?



*Vraag 3

- Wie staat nu voor, Jop of Ank? Hoe weet je dat?
- Kijk eens naar wat Jop gooit en wat Ank gooit. Wie krijgt er nu een blokje bij?
- Kan Ank het spelletje nog winnen? En Jop?



**Vraag 4

Jop heeft al gegooid. Ank moet nog gooien.

- Kan Ank meer gooien dan Jop? Wat zie je dan op haar dobbelstenen? Weet je nog meer manieren?
- En als ze minder gooit dan Jop?
- Wie gaat winnen denk je? Waarom denk je dat?